

3. b kategorija  
3. b kategorija

grupa B



Drniš, 26. i 27. travnja 2025


Ime i prezime: \_\_\_\_\_

1. a) Prepozna i imenuj zadane ljestvice:

10 bodova




\_\_\_\_\_




\_\_\_\_\_

b) Napiši zadane ljestvice u smjeru strelice (predznake pisati ispred nota):



a harmonijski ↓

D dur ↑



g melodijski ↓

### 3. b kategorija

2. Transponiraj melodijski primjer u zadani tonalitet (predznake piši ispred nota):

a)



12 bodova



B dur

b)



12 bodova



e mol

3. a) Izgradi zadane intervale naviše:

12 bodova



č.5

v.3

m.2

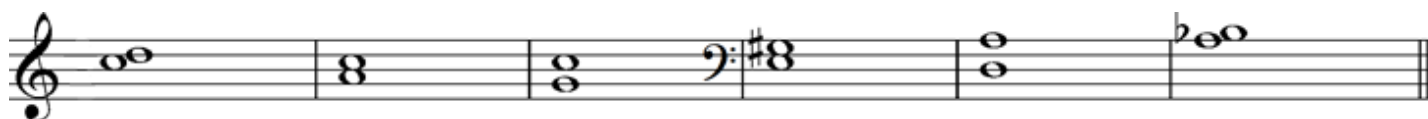
č.4

v.2

m.3

b) Prepoznaj i odredi veličinu i vrstu zadanih intervala:

12 bodova



\_\_\_\_\_

### 3. b kategorija

4. Na zadanom stupnju tonaliteta izgradi kvintakord i odredi njegovu vrstu

(predznake piši ispred nota):

18 bodova



g harmonski: V.    a prirodni: V.    D: III.    B: II.    F: IV.    e melodijski: V.

\_\_\_\_\_


5. Transkribiraj primjer u zadanu mjeru:

a)


8 bodova



b)



8 bodova



6. U melodijskom primjeru dopuni taktove odgovarajućim notnim vrijednostima ili pauzama, tako da zapis odgovara mjeri:

8 bodova



\_\_\_\_\_od ukupno 100 bodova

Članovi ocjenjivačkog suda:

1. \_\_\_\_\_

2. \_\_\_\_\_

3. \_\_\_\_\_